


လွင်လွင် ကိန်းဂဏန်းများကို သင်ယူခြင်း

ပုံပြင် (၃)

လွင်လွင် ခြံထဲတွင်
သင်ယူခြင်း



လွင်လွင် ကိန်းဂဏန်းများကို သင်ယူခြင်း

ပုံပြင် (၃)

လွင်လွင် ခြံထဲတွင် သင်ယူခြင်း

စနေနေ့နဲ့ တနင်္ဂနွေနေ့တိုင်းမှာ လွင်လွင်
သူ့အမေကို ကူညီပေးတယ်။ လွင်လွင် သူ့အမေကို
ကူညီပေးနေစဉ် ကိန်းဂဏန်းတွေအကြောင်း
သင်ယူတယ်။

ဒီတတိယပုံပြင်မှာ လွင်လွင် ဘယ်လိုသင်ယူသလဲ
ဆိုတဲ့ အကြောင်းပါတယ်။

တနင်္ဂနွေနေ့ နေ့လယ်မှာ အမေက သူ့ကို
ကူညီဖို့ လွှင့်လွှင့်ကို ပြောတယ်။

အမေ ။ ။ သမီးရေ - ခြံထဲမှာ ခရမ်းချဉ်သီး
အမှည့်နဲ့ သခွားသီးတွေ အမေ့ကို
သွားခူးပေးပါကွယ်။

အမေက ခရမ်းချဉ်သီး ၇ လုံးနဲ့
သခွားသီး ၃ လုံး လိုချင်တယ်။
ဒါဆိုရင် အားလုံးပေါင်း
ဘယ်နှလုံးဖြစ်မလဲ။





လွင်လွင် ။ ။ခရမ်းချဉ်သီးက ၇ လုံး နဲ့

သခွားသီးက ၃ လုံး

ဒါဆိုရင် အားလုံးပေါင်း ၁၀ လုံး

$$၇ + ၃ = ၁၀$$

ခရမ်းချဉ်သီး ၇ လုံးနဲ့ သခွားသီး ၃ လုံး
အားလုံးပေါင်း ၁၀ လုံး



လွင်လွင် ခြင်းတောင်းယူပြီး ခြံထဲကိုသွားတယ်။
သူ့ခူးလာတာတွေက ပထမဆုံး သူ ခရမ်းချဉ်သီးတွေ
ခူးတယ်။ ခူးနေတုန်း ရေကြည့်တယ်။

၁၊ ၂၊ ၃၊ ၄၊ ၅၊

နောက် သူကြည့်လိုက်တယ်။ ပြီးတော့
ထပ်ကြည့်လိုက်တယ်။ နောက်ထပ်
ခရမ်းချဉ်သီးအမှည့်တွေ မတွေ့တော့ဘူး။





အမေက ခရမ်းချဉ်သီးအမှည့် ၇ လုံး
လိုချင်တယ်။

လွင်လွင့်မှာ ၅ လုံး ရှိတယ်။ ဒါဆိုရင်
သူ့မှာ နောက်ထပ် ခရမ်းချဉ်သီး ဘယ်နှလုံး
လိုနေသလဲ။

၁ ၂ ၃ ၄ ၅ ၆ ၇

$$၇ - ၅ = ၂$$

အားလုံးပေါင်း ၇ လုံးလိုချင်တယ်။ ဒါပေမယ့်
၅ လုံးပဲရှိတယ်။ ဒါကြောင့် နောက်ထပ် ၂ လုံး
လိုတယ်။



နောက် လွင်လွင် သခွားသီးတွေ့ခဲ့တယ်။
ခူးနေတုန်း ရေကြည့်တယ်။

၁၊ ၂၊ ၃၊

လွင်လွင် နောက်ထပ် အမှည့် ၂ လုံးကိုတွေ့တယ်။
ဒါနဲ့ အဲဒီအမှည့်တွေကိုလည်း ခူးလိုက်တယ်။





အမေက သခွားသီးအမှည့် ၃ လုံး
လိုချင်တယ်။

ဒါပေမယ့် လွင်လွင်က ၅ လုံးခုထားတယ်။
သူ့မှာ လိုတာထက် ပိုနေတယ်။ ဘယ်လောက်
ပိုနေသလဲ။

၁ ၂ ၃ ၄ ၅

$$၅ - ၃ = ၂$$

အားလုံးပေါင်း ၅ လုံးရှိတယ်။ ဒါပေမယ့်
လိုချင်တာက ၃ လုံး။ ဒါကြောင့် ၂ လုံးပိုနေတယ်။





အခုဆိုရင် လွင်လွင့်မှာ ခရမ်းချဉ်သီး ၅ လုံးနဲ့
သခွားသီး ၅ လုံးရှိနေတယ်။ သူ့မှာ အသီးအားလုံး
ပေါင်း ဘယ်နှလုံးရှိနေသလဲ။

$$၅ + ၅ = ၁၀$$

ခရမ်းချဉ်သီး ၅ လုံးနဲ့ သခွားသီး ၅ လုံး
အားလုံးပေါင်း ၁၀ လုံး

သူ့မှာ ခရမ်းချဉ်သီး ၅ လုံးရှိတယ်။ ဒါပေမယ့်
သူနောက်ထပ် ၂ လုံးလိုနေတယ်။ သူ့မှာ သခွားသီး
၅ လုံးရှိတယ်။ ဒါပေမယ့် သူ့မှာ ၂ လုံးပိုနေတယ်။



လွင်လွင် သူ့အိမ်နီးချင်း စိုးစိုးကို သူ့ရဲ့ခြံထဲမှာ
တွေ့တယ်။ စိုးစိုးလည်း ခရမ်းချဉ်သီးနဲ့ သခွားသီးတွေ
ခူးနေတယ်။

လွင်လွင် ။ ။ ဟိတ် - စိုးစိုး။ မင်း . . . အသီးတွေ
ဘယ်လောက် ရနေပြီလဲ။ ခရမ်းချဉ်သီး
ဘယ်နှလုံးနဲ့ သခွားသီး ဘယ်နှလုံး
ရနေပြီလဲ။

စိုးစိုး ။ ။ အားလုံးပေါင်း အသီး ၅ လုံးရပြီ။
ဒါပေမယ့် ငါလိုသလောက် မရသေးဘူး။
ငါ သခွားသီး ၄ လုံးလိုချင်တာ ၂ လုံးပဲ
ရသေးတယ်။ ခရမ်းချဉ်သီးက ၁ လုံးပဲ
လိုတာ။ ဒါပေမယ့် ငါ့မှာ ၃ လုံး
ရှိနေတယ်။



လွင်လွင်။ ။ ဟေး - ဒါဆိုရင် မင်းမှာ ခရမ်းချဉ်သီးတွေ
အများကြီး ရနေတာပေါ့။ ငါက ထပ်
လိုချင်တာ။ ငါ့မှာ သခွားသီးတွေ ပိုနေတယ်။
ဒါပေမယ့် မင်းက ထပ်လိုချင်နေတယ်။
ငါတို့ အသီးချင်းလဲကြမလား။

စိုးစိုး ။ ။ အေး - ငါတို့ အတိအကျရအောင်
တွက်ကြည့်ကြမယ်။



လွင်လွင်။ ။မင်း နောက်ထပ် သခွားသီး
ဘယ်နှလုံးလိုသလဲ။

စိုးစိုး ။ ။ငါ့မှာ သခွားသီး ၂ လုံးရှိတယ်။
လိုချင်တာက အားလုံးပေါင်း ၄ လုံး။
ဒီတော့ နောက်ထပ် ငါ ၂ လုံးလိုတယ်။

$$၄ - ၂ = ၂$$

လိုချင်တာ အားလုံးပေါင်း ၄ လုံး၊ ရှိတာက ၂ လုံး၊
ဒါကြောင့် နောက်ထပ် ၂ လုံး လိုတယ်။

စိုးစိုး ။ ။မင်းမှာ နောက်ထပ် ငါ့အတွက် ၂ လုံး
ရှိသေးလား။

လွင်လွင်။ ။ရှိတယ်။ ဒီမှာ ၂ လုံး ယူလိုက်။



စိုးစိုး ။ ။မင်း နောက်ထပ် ခရမ်းချဉ်သီး
ဘယ်နှလုံးလိုသလဲ။

လွင်လွင် ။ ။ငါ့မှာ ရှိတာ ၅ လုံး၊ လိုချင်တာက
အားလုံးပေါင်း ၇ လုံး။ ဒါဆိုရင်
နောက်ထပ် ၂ လုံး လိုတယ်။

$$၇ - ၅ = ၂$$

လိုချင်တာက အားလုံးပေါင်း ၇ လုံး၊ ဒါပေမယ့် ရှိတာက ၅ လုံး၊
ဒါကြောင့် နောက်ထပ် ၂ လုံး လိုတယ်။

လွင်လွင် ။ ။မင်းမှာ နောက်ထပ် ငါ့အတွက် ၂ လုံး
ရှိသေးလား။

စိုးစိုး ။ ။ရှိတယ်။ ဒီမှာ ၂ လုံး ယူလိုက်။





လွင်လွင်နဲ့ စိုးစိုး သူတို့အသီးတွေကို
ပြန်စစ်ကြည့်တယ်။

လွင်လွင်။ ။ အခုဆိုရင် ငါ့မှာ ခရမ်းချဉ်သီး
၇ လုံးနဲ့ သခွားသီး ၃ လုံး၊
အားလုံးပေါင်း အသီး ၁၀ လုံးရှိပြီ။

$$၇ + ၃ = ၁၀$$

စိုးစိုး ။ ။ အခုဆိုရင် ငါ့မှာ ခရမ်းချဉ်သီး
၁ လုံးနဲ့ သခွားသီး ၄ လုံး၊
အားလုံးပေါင်း အသီး ၅ လုံးရှိပြီ။

$$၁ + ၄ = ၅$$



လွင်လွင် ခြင်းတောင်းကို အိမ်ယူသွားတယ်။

လွင်လွင်။ ။မေမေ ဒီမှာကြည့်ပါဦး။ မေမေလိုချင်
တာတွေရပြီ။

လွင်လွင်က ခြင်းတောင်းကို သူ့အမေကို
ပေးလိုက်တယ်။ အမေက ခြင်းတောင်းထဲကို
ကြည့်လိုက်တယ်။

အမေ ။ ။ခရမ်းချဉ်သီး ၇ လုံးနဲ့ သခွားသီး ၃ လုံး
တွေတယ်။ အားလုံးပေါင်း ၁၀ လုံး။
ကျေးဇူးတင်တယ် သမီးရေ။



လွင်လွင် ကိန်းဂဏန်းများကို သင်ယူခြင်း
ပုံပြင် (၃)
လွင်လွင် ခြံထဲတွင်
သင်ယူခြင်း



သရုပ်ဖော်ကာတွန်း - မိုးထက်မိုး
design - မိုးထက်မိုး

လွင်လွင် ကိန်းဂဏန်းများကို သင်ယူခြင်း
ပုံပြင် (၃)
လွင်လွင် ခြံထဲတွင်
သင်ယူခြင်း



unicef 

ယူနီဆက်မှ အခမဲ့ ဖြန့်ဝေသည်။
ရောင်းချရန် မဟုတ်ပါ။